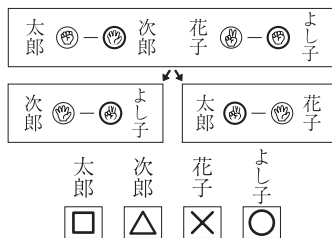


*合格とっくん「立教女学院小学校 [改訂版]」におきまして、「31. 単位の考え方」の解答に誤りがございました。謹んでお詫び申し上げます。
お手数ですが、このページとの差し替えをお願い致します。



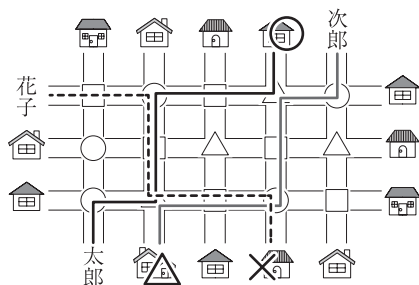
4. 地図上の移動

○の交差点は右に、△は左に、□はまっすぐに進みます。このお約束で、帽子をかぶった太郎君と花子さん、メガネの次郎君が道を歩きます。

・太郎君がお約束の通りに道を歩くと、どの家に着きますか。○をつけてください。(30秒)

・次郎君がお約束の通りに道を歩くと、どの家に着きますか。△をつけてください。(30秒)

・花子さんがお約束の通りに道を歩くと、どの家に着きますか。×をつけてください。(30秒)



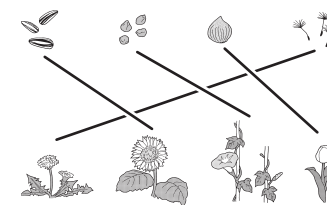
5. 四方からの観察

・太郎君は歩きながら湖を見えています。太郎君から見えている景色を右のお部屋から選んで、○をかいてください。(20秒) (右下に○)

・花子さんは電車から湖を見えています。花子さんから見えている景色を右のお部屋から選んで、△をかいてください。(20秒) (左上に△)

28. 理科的常識

・上の種や球根はどの花のものですか。下から選んで線結びしてください。(30秒)

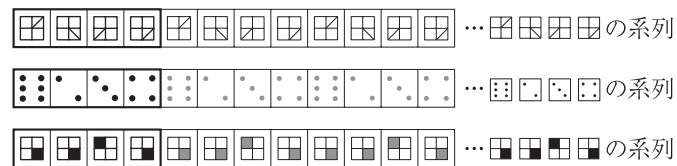


29. 理科的常識

・この中で人の力だけで動く乗り物はどれですか。選んで○をつけてください。(30秒) (自転車、三輪車、ボートに○)

30. 図形系列

・どんな順番で並んでいるかを考えて、あいているところに入る形をかいてください。(1分40秒)



31. 単位の考え方

・マッチをつなげました。2番目に長いのはどれですか。○をつけてください。(30秒)

